


Prezenta lucrare conține _____ pagini

**EVALUAREA NAȚIONALĂ PENTRU
ABSOLVENȚII CLASEI a VIII-a
Anul școlar 2022 – 2023
Matematică**

Simulare județeană

Februarie 2023



Numele:.....

Inițiala prenumelui tatălui:

Prenumele:.....

Școala de proveniență:

Centrul de examen:

Localitatea:

Nume și prenume asistent	Semnătura

A	COMISIA DE EVALUARE	NOTA (CIFRE ȘI LITERE)	NUMELE ȘI PRENUMELE PROFESORULUI	SEMNĂTURA
	EVALUATOR I			
	EVALUATOR II			
	EVALUATOR III			
	EVALUATOR IV			
	NOTA FINALĂ			

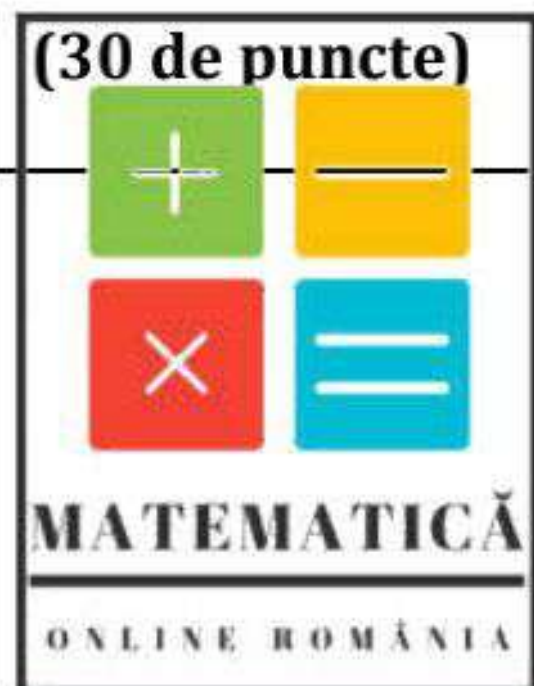
B	COMISIA DE EVALUARE	NOTA (CIFRE ȘI LITERE)	NUMELE ȘI PRENUMELE PROFESORULUI	SEMNĂTURA
	EVALUATOR I			
	EVALUATOR II			
	EVALUATOR III			
	EVALUATOR IV			
	NOTA FINALĂ			

C	COMISIA DE EVALUARE	NOTA (CIFRE ȘI LITERE)	NUMELE ȘI PRENUMELE PROFESORULUI	SEMNĂTURA
	EVALUATOR I			
	EVALUATOR II			
	EVALUATOR III			
	EVALUATOR IV			
	NOTA FINALĂ			


- Toate subiectele sunt obligatorii.
- Se acordă 10 puncte din oficiu.
- Timpul de lucru efectiv este de 2 ore.

SUBIECTUL I

Încercuiește litera corespunzătoare răspunsului corect.




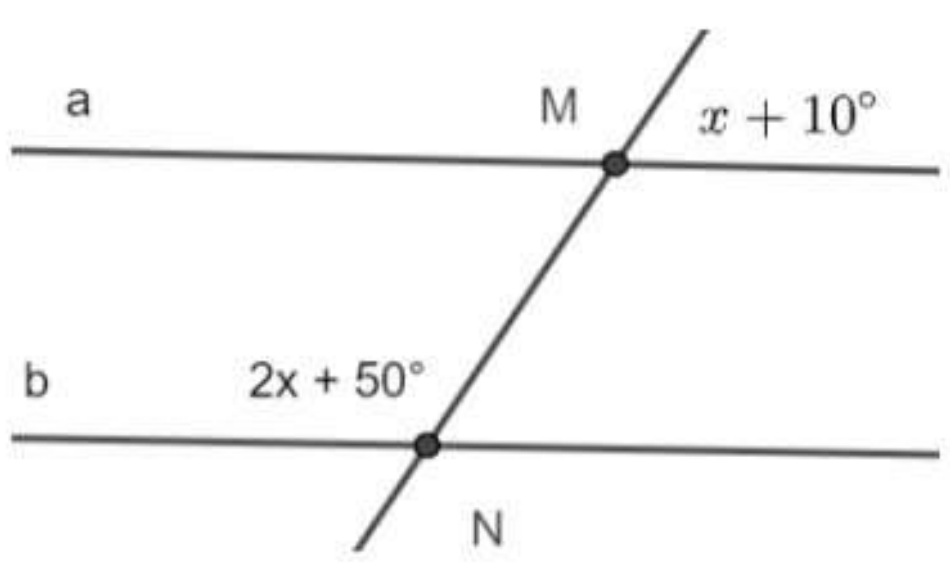

5p	<p>1. Rezultatul calculului $7^1 + 2^2 \cdot 3^2 + 4^2$ este:</p> <p>a) 51 b) 59 c) 61 d) 115</p>
5p	<p>2. Dacă $\frac{x}{6} = \frac{8}{2}$ atunci $x + 1999$ este egal cu</p> <p>a) 2022 b) 2023 c) 2024 d) 2047</p>
5p	<p>3. Dacă $A = \{x \in \mathbb{R} \mid x - 2 \leq 2\sqrt{3}\}$, atunci suma numerelor întregi din A este egală cu:</p> <p>a) 0 b) 12 c) 14 d) 15</p>
5p	<p>4. Cel mai mare număr natural de trei cifre \overline{abc} cu $a < b$ și $a + b = 2c$, este egal cu:</p> <p>a) 597 b) 957 c) 978 d) 798</p>

5p	<p>5. Cel mai mare dintre numerele $\frac{2}{3}$; $\frac{3}{5}$; $\frac{8}{15}$; $\frac{19}{30}$ este:</p> <p>a) $\frac{2}{3}$</p> <p>b) $\frac{3}{5}$</p> <p>c) $\frac{8}{15}$</p> <p>d) $\frac{19}{30}$</p>	
5p	<p>6. Se cere valoarea numerică a expresiei $E(x) = x^2 + y^2$, știind că $x + y = 2\sqrt{2}$ și $xy = 1$. Miruna a calculat și a obținut rezultatul 6. Rezultatul obținut de Miruna este:</p> <p>a) adevărat</p> <p>b) fals</p>	

SUBIECTUL al II- lea

Încercuiește litera corespunzătoare răspunsului corect.

(30 de puncte)


5p	<p>1. În figura de mai jos sunt reprezentate punctele A, B, C și D coliniare astfel încât C este mijlocul lui AD, E este simetricul punctului A față de D, iar $BC = 2 AB = 8\text{cm}$.</p>	
<p>Atunci lungimea segmentului CE este egală cu :</p>		
5p	<p>2. În figura alăturată dreptele a și b sunt paralele tăiate de secanta MN. Folosind informațiile din figură valoarea lui x este egală cu:</p> <p>a) 40°</p> <p>b) 50°</p> <p>c) 60°</p> <p>d) 45°</p>	
5p	<p>3. Dreptunghiul ABCD are perimetrul de 60cm și lățimea egală cu jumătate din lungimea sa. Atunci aria dreptunghiului este:</p> <p>a) 100cm^2</p> <p>b) 200cm^2</p> <p>c) 300cm^2</p> <p>d) 600cm^2</p>	

(2p) b) Care este lungimea drumului parcurs de Ionel în a doua zi?



5p 2. Se consideră fracția $F(n) = \frac{3^{n+2} + 4 \cdot 3^{n+1} + 2 \cdot 3^n + 160}{2023}$, unde n este număr natural.
(2p) a) Arătați că pentru $n = 0$, se obține $F(n) = \frac{183}{2023}$

(3p) b) Determinați numărul natural n , pentru care fracția $F(n)$ este echiunitară.



5p

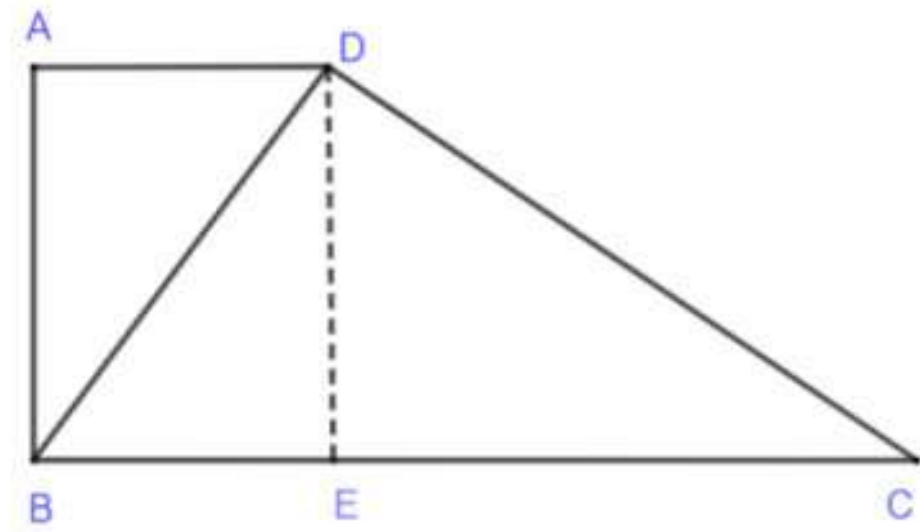
3. Se consider expresia: $E(x) = (x + 3)^2 - (x - 3)^2 + x(x - 10) - 1$, unde $x \in R$

(3p) a) Arătați că $E(x) = x^2 + 2x - 1, \forall x \in R$

(2 p) b) Arătați că $E(\sqrt{3} - 1)$ este număr natural

5p

4. O grădină cu forma unui trapez dreptunghic ABCD cu $AD \parallel BC$, $m(\sphericalangle A) = 90^\circ$, $BD \perp DC$, $AD = 10\text{dam}$ și $BC = 67,6\text{dam}$. Suprafața ABD este cultivată cu roșii.



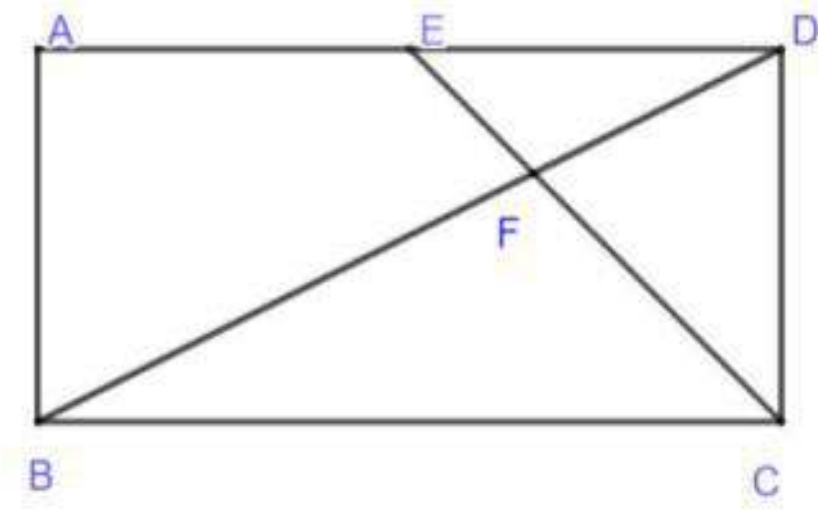
(3p) a) Arată că distanța de la B la D este de 260m

(2p) b) Dacă 1m^2 cultivat cu roșii aduce un profit de 15 lei, aflați ce profit va aduce proprietarului cultura de roșii.


5p

5. În figura alăturată este schița unui teren de joacă în formă de dreptunghi ABCD, cu $AB = 9$ dam și diagonala $BD = 3\sqrt{73}$ dam.


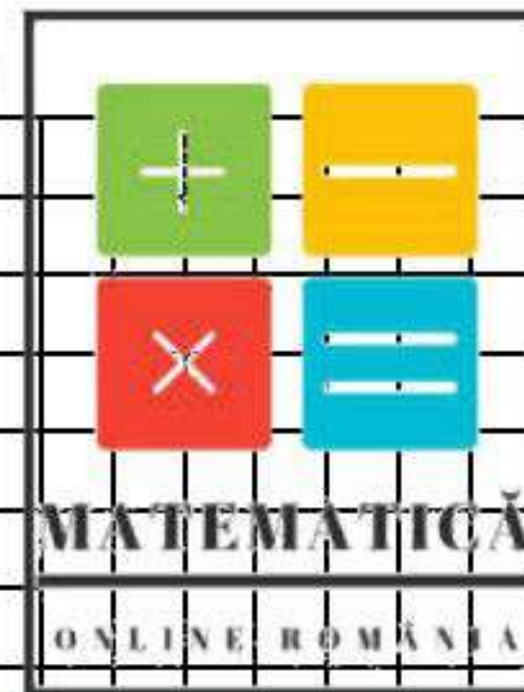
Dacă E este mijlocul lui AD și $EC \cap BD = \{F\}$, se cere:

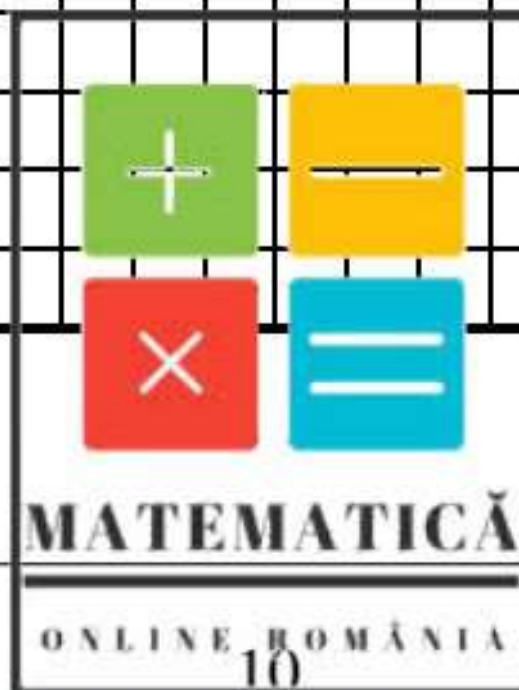



(2p) a) Arată că perimetrul terenului de joacă este de 660m



(3p) b) Calculați aria triunghiului BCF







MATEMATICĂ

ONLINE ROMÂNIA